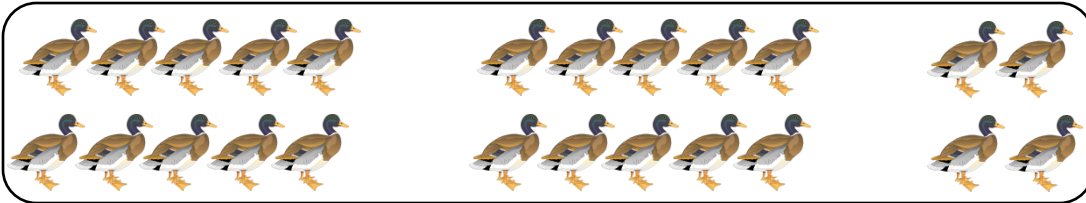


# MATERI MATEMATIKA KELAS 1 BAB 5

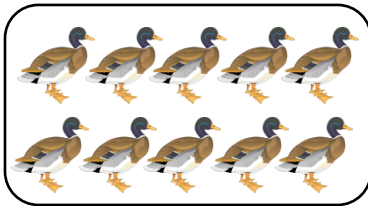
## Mengenal Bilangan 21 sampai 40

### A. Bilangan 21 sampai 40

Perhatikan banyak bebek berikut!

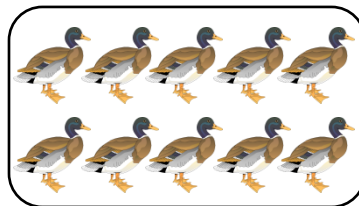


Banyak bebek di atas lebih mudah dihitung dengan cara dikelompokkan. Kelompokkan bebek sebanyak sepuluh-sepuluh.



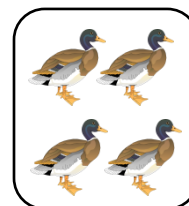
10

+



10

+




4

= 24


Jadi, banyak bebek ada 24 ekor.

### B. Menulis Lambang Bilangan 21 sampai 40


Perhatikan banyak benda dan lambang bilangannya berikut!




21



36



29



40

### C. Membilang Urut 21 sampai 40

Perhatikan urutan bilangan 21 sampai 40 berikut!

21	22	23	24	25	26	27	28	29	30
31	32	33	34	35	36	37	38	39	40

Perhatikan beberapa nama dan lambang bilangan berikut!

Lambang Bilangan	Nama Bilangan
22	Dua puluh dua
23	Dua puluh tiga
29	Dua puluh sembilan


Lambang Bilangan	Nama Bilangan
30	Tiga puluh
36	Tiga puluh enam
38	Tiga puluh delapan

### D. Nilai Tempat Bilangan

Setiap angka pada suatu bilangan memiliki nilai yang berbeda tergantung pada tempatnya.

Perhatikan contoh berikut!

Toni membeli 24 jeruk. Jeruk tersebut dapat dikelompokkan seperti berikut ini!



Bilangan 24 dapat disusun menurut nilai tempat setiap angkanya.

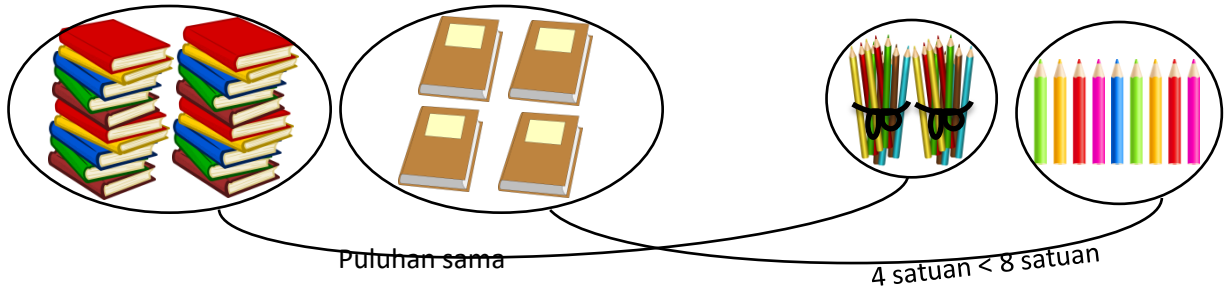
$$\begin{aligned} 24 &= 2 \text{ puluhan} + 4 \text{ satuan} \\ &= 20 + 4 \end{aligned}$$

Pada bilangan 24, angka 2 menempati tempat **puluhan**, nilainya **20**. Sementara angka 4 menempati tempat **satuan**, nilainya **4**.

### E. Membandingkan dan Mengurutkan Bilangan

Ingat kembali cara membandingkan dua kumpulan benda yang telah kalian pelajari sebelumnya.

Perhatikan contoh berikut!



Jadi,  $24 < 28$ .

Untuk mengurutkan sekelompok bilangan, kalian perlu membandingkannya terlebih dahulu satu persatu.

Contoh :

Urutan bilangan 27, 22, 38, 30, 40, dari terkecil dan terbesar.

Urutan dari yang terkecil : 22, 27, 30, 38, 40.

Urutan dari yang terbesar : 40, 38, 30, 27, 22.

#### F. Penjumlahan Cara Bersusun Pendek

Kakek Toni memiliki 14 ekor ayam dan 12 ekor bebek.

Jumlah kedua hewan tersebut dapat dihitung dengan cara bersusun.

Cara bersusun digunakan untuk mempermudah perhitungan.

Perhatikan langkah-langkah penjumlahan bersusun pendek berikut!

14

12 +

26



Jumlahkan bilangan sesuai nilai tempatnya.  
 4 satuan + 2 satuan = 6 satuan  
 1 puluhan + 1 puluhan = 2 puluhan

Jadi, jumlah ayam dan bebek milik kakek Toni ada 26 ekor.